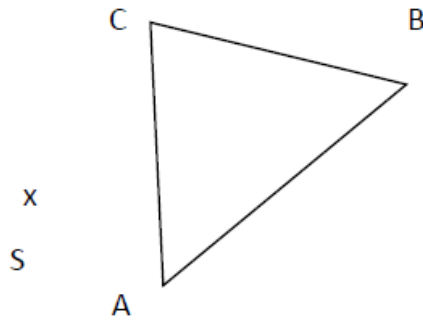
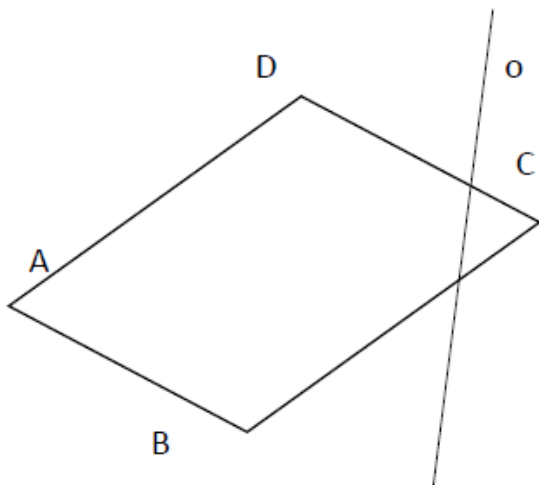


GEOMETRIE

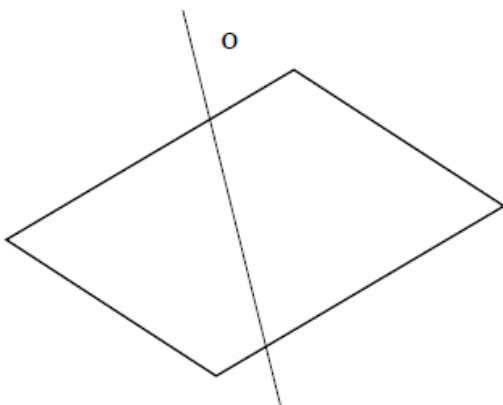
1) Ve středové souměrnosti sestroj obraz: (nejdříve si označ vrcholy)



2) Narýsuj v osové souměrnosti obraz: (nejdříve si označ vrcholy)



3) Narýsuj v osové souměrnosti obraz: (nejdříve si označ vrcholy)



4) Narýsuj trojúhelník ABC je-li dáno $b = 6$ cm, $c = 9$ cm, $\alpha = 60^\circ$.

5) Narýsuj trojúhelník ABC je-li dáno $a = 7$ cm, $b = 5$ cm, $c = 8$ cm.